


Politische Bildung

SJ 2018-2019

Schulinterner Wettbewerb



Biennium

Name, Nachname	
Schule, Klasse	
Abgabezeit	
Punkte / Rang	


1.1		<p>Durch die Landtagswahlen im Oktober 2018 haben sich die Kräfteverhältnisse im Landtag stark verändert. Gib für folgende Parteien an, ob sie im Vergleich zu den Landtagswahlen 2013 Sitze gewonnen oder verloren haben.</p>	4 P
-----	---	--	-----


Die SVP	
Team Köllensperger	
Lega	
Die Freiheitlichen	

1.2	<p>Die Landtagswahl 2018 brachte viele neue Abgeordnete in den Landtag. Wer sind folgende Abgeordnete und für welche Partei sitzen sie im Landtag?</p>	4 P
-----	--	-----


	
	

1.3	<p>Ab welchem Alter ist man berechtigt, an den Landtagswahlen teilzunehmen?</p> <p>Aktives Wahlrecht ab _____.</p> <p>Passives Wahlrecht ab _____.</p>	4 P
-----	--	-----


1.4		<p>Hier siehst du einen Ausschnitt eines Wahlplakats, mit dem eine Partei bei den Landtagswahlen 2018 in den Wahlkampf ging. Um welche Rechtspartei handelt es sich?</p> <p>_____</p>	2 P
-----	---	---	-----



2.1	 <p>In Italien sind die deutschsprachigen Südtiroler bei weitem nicht die einzige geschützte sprachliche Minderheit. Wir finden auch Slowenen, Franzosen und Sarden. Zeichne auf der Italienkarte ein, wo diese vier staatlich geschützte Minderheiten geographisch angesiedelt sind und kennzeichne sie.</p>	4 P
-----	--	-----


2.2	<p>Zwar ändert sich der Name, aber in der Substanz sind die verschiedenen Exekutivorgane auf den verschiedenen Verwaltungsebenen sehr ähnlich. Fülle die Textlücken aus.</p> <p>Auf Staatsebene heißen die Mitglieder der Regierung _____, Auf Landesebene heißen sie hingegen _____. Auf EU-Ebene heißen sie nochmals anders und zwar _____. Genauso verhält es sich mit den jeweiligen Bezeichnungen des Chefs / der Chefin der exekutiven Gewalt auf verschiedenen Ebenen. Auf Staatsebene sprechen wir von einem/einer _____, während er/sie auf Landesebene _____ heißt und abschließend auf Gemeindeebene der/die _____ ist.</p>	6 P
-----	--	-----


2.3	 <p>Die italienische Rechtsordnung sieht verschiedene Arten vor, wie man die Staatsbürgerschaft erwerben kann. Nenne hier mindestens fünf Möglichkeiten.</p> <hr/> <hr/> <hr/> <hr/> <hr/>	5 P
-----	---	-----

2.4	Ein bekanntes Trio in Italien! Wer sind diese drei Politiker? (Nachname genügt)			3 P	
					


2.5		<p>Die derzeitige Regierungskoalition besteht aus den Parteien Lega und Movimento 5 Stelle (Fünf-Sterne-Bewegung). Nenne ein wichtiges Wahlkampfthema der Lega.</p> <p>_____</p>	2 P
-----	--	--	-----


2.6		<p>Seit einigen Monaten tadelt die Europäische Union die italienische Regierung wegen Nichteinhaltung der Abmachungen bzw. Verträge. Worum geht es?</p>		2 P
	<p>_____</p> <p>_____</p>			

2.7		<p>Am 14 August stürzte eine Autobahnbrücke (der „Ponte Morandi“) in einer wichtigen Hafenstadt Italiens ein. Die Folgen sind dramatisch: 43 Tote, lahmgelegter Durchzugsverkehr, wirtschaftlicher Schaden in Milliardenhöhe, Zwangsevakuierung mehrerer hundert Personen. Die italienische Regierung gab dem Wiederaufbau der Brücke höchste Priorität. In welcher Stadt ereignete sich dieser dramatische Vorfall?</p> <p>_____</p>	2 P
-----	---	---	-----

3.1	 <p>Am 29.03.2019 wird der Brexit zur Wirklichkeit. Worum geht es denn eigentlich?</p> <hr/>	2 P
-----	---	-----

3.2	<p>Dieser Staat ist einer der flächenmäßig größten Staaten der Europäischen Union. Im Zweiten Weltkrieg kämpfte er gegen Italien und Deutschland. Es ist ein Gründungsmitglied der Europäischen Gemeinschaft für Kohle und Stahl. Die Sprache dieses Landes ist auch in Afrika weit verbreitet. Dieses Land war Schauplatz einer sehr bekannten Revolution. Dieser Staat ist:</p> <hr/>	2 P
-----	---	-----


3.3	 <p>2019 finden die Wahlen zum Europäischen Parlament statt. Alle wieviel Jahre wird das Europäische Parlament gewählt?</p> <p>Parlamentum Europaeum</p> <hr/> <p>Wer ist wahlberechtigt?</p> <hr/>	4 P
-----	---	-----


3.4	 <p>Die EU umfasst einen Großteil Europas, aber eben nicht ganz. Nenne hier drei Staaten, die zwar zu Europa, aber nicht der EU angehören.</p> <hr/> <hr/> <hr/>	3 P
-----	---	-----


3.5		W/F	5 P
-----	---	-----	-----



Der Erste Weltkrieg war ein folgenschwerer Einschnitt in die Geschichte Europas. Gib an welche Aussagen bezüglich des Krieges wahr sind und welche falsch.


a)	Der Erste Weltkrieg beginnt durch den Angriff Italiens auf Österreich-Ungarn.	
b)	Deutschland und Österreich-Ungarn waren während des Krieges verbündet.	
c)	Im Ersten Weltkrieg waren auch Russland und die USA beteiligt.	
d)	Nach dem Ersten Weltkrieg zerfiel die Donaumonarchie Österreich-Ungarn in verschiedene Staaten.	
e)	Bei den Friedensverhandlungen nach dem Ersten Weltkrieg wurden Italien verschiedene Gebiete zugesprochen, darunter auch Trentino-Südtirol.	


3.6		<p>Russland setzt auf Expansionskurs und tritt dabei das internationale Recht mit Füßen. Welches einst befreundete Land ist nun von der Aggressivität Russlands in den letzten Jahren besonders betroffen und erleidet in den östlichen Regionen bürgerkriegsähnliche Zustände?</p> <p>_____</p>	2 P
-----	---	--	-----


3.7		<p>Keine leichten Zeiten für den Präsidenten der Republik Frankreich, Emmanuel Macron. Der Protest gegen die Erhöhung der Treibstoffpreise in Frankreich führte in Paris und anderen Städten zu Ausschreitungen. Wie nennen sich die Gruppen, die diesen Protest anführen? (Schau das Bild an!)</p> <p>_____</p>	2 P
-----	--	--	-----



4.1		<p>... und nun stehen sie in Tijuana (Mexiko) unweit der US-Grenze und wollen in die USA.</p> <p>Woher kommt diese Flüchtlingswelle?</p> <p>_____</p>	2 P
-----	---	---	-----


4.2	<p>Na ja, wenn die Phantasie fehlt, dann zeichnet man auf der eigenen Flagge die Umrisse des eigenen Staates hin und dann sieht die Flagge so aus. Um die Flagge welchen Staates handelt es sich?</p>		4 P
			


4.3		<p>Diese Flagge ist die Flagge eines islamischen Landes des Nahen Ostens. Dieses Land hieß früher Persien und wurde von einem Schah regiert. 1979 kam es zur islamischen Revolution. Wenig später hatte dieses Land einen blutigen und lang andauernden Krieg mit dem Irak. Seit kurzem hat die USA dieses Land mit Wirtschaftssanktionen belegt. Um welches Land handelt es sich?</p> <hr/>	2 P
-----	---	--	-----

4.4		<p>Im Oktober 2018 wurde der Journalist Jamal Kashoggi in Istanbul umgebracht. Man vermutet hinter dem Mord die Regierung eines Staates, der gegenüber sich Kashoggi immer wieder kritisch äußerte. Von welchem Staat ist hier die Rede?</p> <hr/>	2 P
-----	---	--	-----

4.5		<p>Am 6. November gab es in den USA Wahlen. Gib an, ob folgende Aussagen bezüglich der abgelaufenen Wahlen wahr oder falsch sind.</p>	W/F	4 P
	a)	Es wurde das gesamte Repräsentantenhaus neu gewählt.		
	b)	Es wurde der gesamte Senat neu gewählt.		
	c)	Die republikanische Partei hat nach den Wahlen die Mehrheit der Sitze im Repräsentantenhaus.		
	d)	Die republikanische Partei hat nach den Wahlen die Mehrheit der Sitze im Senat.		

4.6		<p>Derzeit liefern sich die USA und die Volksrepublik China einen Wirtschaftskrieg. Welche Maßnahmen werden in einem solchen Krieg eingesetzt? Nenne mindestens eine.</p> <hr/>		2 P
-----	---	---	---	-----

4.7		<p>Ende November haben drei nordamerikanischen Staaten ein gemeinsames Handelsabkommen, das USMCA, unterzeichnet. Dieses Handelsabkommen ist das Nachfolgeabkommen des Handelsabkommens NAFTA. Um welche Staaten handelt es sich?</p>	3 P
-----	---	---	-----

4.8		<p>Anfang Dezember begann die COP24 in Katowice (Polen). Worüber wurde in dieser UN-Konferenz zwei Wochen lang verhandelt? Kreuze die richtige Antwort an.</p>	2 P
-----	---	--	-----

a)	Klimawandel
b)	Begrenzung der Atomwaffen
c)	Einschränkung der Atomforschung zu militärischen Zwecken
d)	Silllegung der Atomreaktoren in Europa und insbesondere in Polen.
e)	Die Aufteilung des Nordpols.
f)	Die Beseitigung von Plastikmüll aus den Ozeanen.