


Politische Bildung

SJ 2018-2019

Schulinterner Wettbewerb

Triennium


Name, Nachname	
Schule, Klasse	
Abgabezeit	
Punkte / Rang	

1.1	 <p>Durch die Landtagswahlen im Oktober 2018 haben sich die Kräfteverhältnisse im Landtag stark verändert. Zwei Parteien konnten einen Wahlerfolg feiern. Nenne hier die drei Parteien, die als stimmenstärksten Parteien aus den Landtagswahlen hervorgegangen sind und wie viele Sitze sie jeweils im Landtag haben.</p> <p>1 _____</p> <p>2 _____</p> <p>3 _____</p>	6 P
-----	--	-----


1.2	Die Landtagswahlen im Oktober 2018 brachten viele neue Abgeordnete in den Landtag. Wer ist wer und für welche Partei sitzt er/sie nun im Landtag?	8 P
-----	---	-----

1.3	 <p>Wie viele Sitze erhielt diese Partei im Landtag?</p> <p>_____</p>	<p>Hier siehst du einen Ausschnitt eines Wahlplakats, mit dem eine Partei bei den Landtagswahlen 2018 in den Wahlkampf ging. Um welche Rechtspartei handelt es sich?</p> <p>4 P</p>
-----	--	---

2.1	 <p>In Italien sind die deutschsprachigen Südtiroler bei weitem nicht die einzige geschützte sprachliche Minderheit. Wir finden auch Slowenen, Franzosen und Sarden. Zeichne auf der Italienkarte ein, wo diese vier geschützten Minderheiten geographisch angesiedelt sind und kennzeichne sie.</p>	4 P
-----	---	-----

2.2	<p>Zwar ändert sich der Name, aber in der Substanz sind die verschiedenen Exekutivorgane auf den verschiedenen Verwaltungsebenen sehr ähnlich. Fülle die Textlücken aus.</p> <p>Auf Staatsebene heißen die Mitglieder der Regierung _____, Auf Landesebene heißen sie hingegen _____. Auf EU-Ebene heißen sie nochmals anders und zwar _____. Genauso verhält es sich mit den jeweiligen Bezeichnungen des Chefs / der Chefin der exekutiven Gewalt auf verschiedenen Ebenen. Auf Staatsebene sprechen wir von einem/einer _____, während er/sie auf Landesebene _____ heißt und abschließend auf Gemeindeebene der/die _____ ist.</p>	6 P
-----	--	-----



2.3	 <p>Die italienische Rechtsordnung sieht verschiedene Arten vor, wie man die Staatsbürgerschaft erwerben kann. Nenne hier mindestens fünf Möglichkeiten.</p> <hr/> <hr/> <hr/> <hr/> <hr/>	5 P
-----	---	-----

2.4	Ein bekanntes Trio in Italien! Wer sind diese Personen und welches Amt bekleiden sie? Gib bei der ersten und dritten Person auch an, welcher Partei sie angehören.	8 P
		

2.5	Die derzeitige Regierungskoalition besteht aus den Parteien Lega und Movimento 5 Stelle (Fünf-Sterne-Bewegung). Mit welchen Themen haben diese zwei Parteien ihren Wahlkampf bestritten? Gib zu folgenden Wahlthemen an, welche der beiden Parteien das jeweilige Thema vorgebracht hat.	Lega / M5S	6 P
a) Scharfe Maßnahmen gegen illegale Einwanderung.			
b) Einführung eines Bürgereinkommens.			
c) Einführung einer einheitlichen Steuer von 15% auf das Einkommen.			
d) Wiedereinführung des Militärdienstes.			
e) Herabsetzung der Deliktsfähigkeit von Minderjährigen von 14 auf 12 Jahre.			
f) Abschaffung der Privilegien der Parlamentarier			

2.6	<p>Immer wieder hört man in den Nachrichten den Begriff „<i>spread</i>“ und dass dieser <i>spread</i>, falls er zu hoch ansteigt, eine Gefahr für den italienischen Staatshaushalt darstellt. Erkläre, was dieser <i>spread</i> ist und warum das Ansteigen des <i>spreads</i> tatsächlich eine Gefahr für den italienischen Staatshaushalt darstellt.</p> <hr/> <hr/> <hr/> <hr/>	6 P
-----	--	-----


2.7	Ende November wurde das unter Juristen umstrittene. Sicherheitsdekret vom Parlament angenommen und in ein Gesetz umgewandelt. Gib dazu an, welche der folgenden Aussagen wahr und welche falsch sind.		W/F	6 P
	a)	Der Asylschutz aus humanitären Gründen wird abgeschafft.		
	b)	Migranten sollen künftig nicht mehr nur 90, sondern 180 Tage in Abschiebehäft gehalten werden können.		
	c)	Elektroschock-Pistolen, sogenannte Taser, sollen künftig in allen größeren Städten eingesetzt werden.		
	d)	Besetzte Häuser sollen geräumt werden, und deren Bewohnern drohen Haftstrafen von bis zu vier Jahren.		
	e)	Asylbewerber, die für die Gesellschaft gefährlich oder von einem Gericht ersten Grades wegen schwerer Verbrechen oder wegen Drogenhandels, sexueller Gewalt und Körperverletzung verurteilt worden sind, sollen ihren Schutzanspruch verlieren und ausgewiesen werden können.		
	f)	Selbst Verwandten von Straftätern wird das Aufenthaltsrecht entzogen.		

2.8		Seit einigen Monaten tadelt die Europäische Union die italienische Regierung wegen Nichteinhaltung der Abmachungen bzw. Verträge. Worum geht es?		2 P
<hr/> <hr/>				

3.1	Die EU denkt seit einem Jahr immer stärker über eine europäische Verteidigungspolitik, unabhängig von den USA, nach. Bisher waren und sind die meisten EU-Länder gemeinsam mit den USA in einem Verteidigungsbündnis. Dieses Bündnis heißt:	2 P
<hr/>		

3.2	Entscheide ob folgende Staaten ein Nationalstaat sind oder ein Nationalitätenstaat (Vielvölkerstaat). Kreuze jeweils an:		4 P
		Nationalstaat (mit oder ohne Minderheiten)	Nationalitätenstaat
	Die Schweiz		
	Spanien		
	Deutschland		
	Belgien		

3.3	Dieser Staat ist einer der flächenmäßig größten Staaten der Europäischen Union. Im Zweiten Weltkrieg kämpfte er gegen Italien und Deutschland. Es ist ein Gründungsmitglied der Europäischen Gemeinschaft für Kohle und Stahl. Die Sprache dieses Landes ist auch in Afrika weit verbreitet. Dieses Land war Schauplatz einer sehr bekannten Revolution. Dieser Staat ist:	2 P
-----	--	-----

3.4	<div style="display: flex; align-items: center;">  <div style="margin-left: 20px;"> <p>2019 finden die Wahlen zum Europäischen Parlament statt.</p> <p>Alle wieviel Jahre wird das Europäische Parlament gewählt?</p> <p>_____</p> </div> </div> <p>Parlamentum Europaeum</p> <p>Wer ist wahlberechtigt?</p> <p>_____</p>	4 P
-----	---	-----

3.5	Einer der folgenden Staaten gehört der EU nicht an? Kreuze an:	2 P												
	<table style="width: 100%; border-collapse: collapse;"> <tr> <td style="width: 25%; border: 1px solid black;">a)</td> <td style="width: 25%; border: 1px solid black;">Die Schweiz</td> <td style="width: 25%; border: 1px solid black;">d)</td> <td style="width: 25%; border: 1px solid black;">Bulgarien</td> </tr> <tr> <td style="border: 1px solid black;">b)</td> <td style="border: 1px solid black;">Österreich</td> <td style="border: 1px solid black;">e)</td> <td style="border: 1px solid black;">Polen</td> </tr> <tr> <td style="border: 1px solid black;">c)</td> <td style="border: 1px solid black;">Irland</td> <td style="border: 1px solid black;">f)</td> <td style="border: 1px solid black;">Dänemark</td> </tr> </table>	a)	Die Schweiz	d)	Bulgarien	b)	Österreich	e)	Polen	c)	Irland	f)	Dänemark	
a)	Die Schweiz	d)	Bulgarien											
b)	Österreich	e)	Polen											
c)	Irland	f)	Dänemark											


3.6		<p>Im Bild siehst du eine Landkarte Europas von 1914. Durch den Ersten Weltkrieg hat sich Einiges verändert. Gib an welche Aussagen diesbezüglich wahr sind und welche falsch.</p>	W/F	5 P
-----	---	--	-----	-----


a)	Das Ende des Ersten Weltkrieges führte zur Auflösung der Sowjetunion.	
b)	Bei den Friedensverhandlungen nach dem Ersten Weltkrieg wurde unter anderem Trentino-Südtirol dem Königreich Italien zugesprochen.	
c)	Jugoslawien entsteht als Folge des Ersten Weltkrieges.	
d)	Italien musste nach dem Krieg Istrien und Dalmatien an Jugoslawien abtreten.	
e)	Das Osmanische Reich zerfiel unter anderem als Folge des Ersten Weltkrieges und es entstand die Türkei.	


3.7		<p>Der Erste Weltkrieg war ein folgenschwerer Einschnitt in der Geschichte Europas. Gib an welche Aussagen bezüglich des Krieges wahr sind und welche falsch.</p>	W/F	6 P
-----	---	---	-----	-----


- | | | |
|----|---|--|
| a) | Der Erste Weltkrieg beginnt durch den Angriff Italiens auf Österreich-Ungarn. | |
| b) | Deutschland und Österreich-Ungarn waren während des Krieges verbündet. | |
| c) | Bis nach dem Ersten Weltkrieg hatte die Donaumonarchie eine Kriegsmarine. | |
| d) | Italien greift infolge des Londoner Geheimvertrages 1915 in den Krieg ein. | |
| e) | Spanien und Portugal sind im Ersten Weltkrieg maßgebend verwickelt. | |
| f) | 1916 griffen auch die USA in den Krieg ein. | |



3.8	<p>Der Ministerrat der EU ist je nach behandeltem Thema anders zusammengesetzt. Wie kann das möglich sein? Wer sind also die Mitglieder des EU-Ministerrates? Erkläre.</p> <hr/> <hr/> <hr/>	4 P
-----	--	-----



3.9		<p>Theresa May hat es nicht leicht mit dem Brexit. Insbesondere scheint die Nord-Irland-Frage ein besonderes Kopfzerbrechen zu bereiten. Warum denn eigentlich? Erkläre.</p> <hr/> <hr/>	4 P
-----	---	--	-----


3.10		<p>Russland betreibt gegenüber der Ukraine eine aggressive Expansionspolitik indem sie Rebellen im Staat militärisch unterstützt und sich dabei über das internationale Recht hinwegsetzt. Auch letztlich gab es Spannungen zwischen der Ukraine und Russland, doch der eklatanteste Fall war die rechtswidrige militärische Besetzung einer Halbinsel des ukrainischen Staatsgebietes. Es handelt sich um die</p> <hr/>	2 P
------	---	--	-----


3.11		<p>Keine leichten Zeiten für den Präsidenten der Republik Frankreich, Emmanuel Macron. Der Protest der „Gelbwesten“ führte zu Ausschreitungen, insbesondere in Paris. Was wollen die „Gelbwesten“ erreichen?</p> <hr/>	3 P
------	---	--	-----


4.1		<p>... und nun stehen sie in Tijuana (Mexiko) unweit der US-Grenze und wollen in die USA.</p> <p>Woher kommt diese Flüchtlingswelle?</p> <hr/> <p>Wovor flüchten sie? Führe mindestens einen Grund an.</p> <hr/>	4 P
-----	---	--	-----

4.2	<p>Na ja, wenn die Phantasie fehlt, dann zeichnet man auf der eigenen Flagge eben den eigenen Staat hin und dann sieht die Flagge einfach so aus. Um welche Staaten handelt es sich?</p>		4 P
			

4.3	 <p>Die USA und der Iran sind seit der Präsidentschaft Trump wieder im Dauerstreit. Die USA bezichtigen den Iran Forschungen für die Anfertigung von Atomwaffen zu betreiben. Die EU betrachtet diese Anschuldigungen mit Skepsis. Anfang November traten die Wirtschaftssanktionen der USA gegen den Iran wieder in Kraft und damit setzt Trump auch die Unternehmer der EU vor einer klaren Wahl. Welcher?</p> <hr/>		4 P
-----	---	---	-----


4.4		<p>Saudi Arabien ist kein Staat, von dem man oft in den Nachrichten hört, aber im Oktober 2018 stand die Regierung dieses Staates plötzlich auf der Anklagebank in allen Massenmedien rund um die Welt. Insbesondere erhob die Türkei den Zeigefinger gegen diese Regierung. Was war geschehen und warum ermittelte ausgesprochen die türkische Polizei gegen Saudi Arabien? Erkläre.</p>	4 P

4.5		W/F	4 P
		<p>Am 6. November gab es in den USA Wahlen. Gib an, ob folgende Aussagen bezüglich der abgelaufenen Wahlen wahr oder falsch sind.</p>	
a)	Es wurde das gesamte Repräsentantenhaus neu gewählt.		
b)	Es wurde der gesamte Senat neu gewählt.		
c)	Die republikanische Partei hat nach den Wahlen die Mehrheit der Sitze im Repräsentantenhaus.		
d)	Die republikanische Partei hat nach den Wahlen die Mehrheit der Sitze im Senat.		

4.6		<p>Überlege: Welche wären die Folgen, wenn das Bargeld abgeschafft würde und alle Zahlungen nur noch durch digitales Geld vorgenommen würden? Schreibe hier zwei mögliche Folgen auf.</p>	4 P

4.7	Am 10. und 11. Dezember trafen sich Vertreter verschiedener Staaten in Marrakesch, um den UNO-Migrationspakt zu unterzeichnen. Doch was sieht dieser Migrationspakt vor? Gib an, ob folgende Aussagen zum Migrationspakt wahr oder falsch sind.	W/F	3 P
	a)	Der UNO-Migrationspakt ist ein verbindliches Abkommen.	
	b)	Die USA haben sich mit großer Mehrheit für die Annahme dieses Paktes ausgesprochen.	
	c)	In Italien war die Lega der stärkste Befürworter dieses Paktes.	

4.8	<p>Ende November haben die USA und andere zwei Staaten eine Neuauflage des NAFTA, das USMCA-Handelsabkommen, unterzeichnet.</p> <p>Welche sind die anderen zwei Unterzeichnerstaaten?</p> <hr/>		2 P
-----	---	--	-----

4.9	 <p>Anfang Dezember begann die COP24 in Katowice (Polen). Worüber wurde in dieser UN-Konferenz zwei Wochen lang verhandelt? Kreuze das richtige Thema an.</p>		2 P
	a)	Klimawandel	
	b)	Begrenzung der Atomwaffen	
	c)	Einschränkung der Atomforschung zu militärischen Zwecken	
	d)	Schließung der Atomreaktoren in Europa und insbesondere in Polen.	
	e)	Die Aufteilung des Nordpols.	
	f)	Die Beseitigung von Plastikmüll aus den Ozeanen.	